

3 වන වාර පරීක්ෂණය - 2009

ඉතිහාසය

කාලය පැය 2 යි

නම:..... ශ්‍රේණිය..... අංකය.....

- සැලකිය යුතුයි : මකන දියර භාවිතය සම්පූර්ණයෙන් තහනම් වේ.
- I පත්‍රයේ දී ඇති සියළුම ප්‍රශ්නවලට මෙම පත්‍රයේම පිළිතුරු සපයන්න.
- II පත්‍රයේ දී ඇති ප්‍රශ්න 5 ටම පිළිතුරු මෙම ප්‍රශ්න පත්‍රයේම ලියන්න.

I කොටස

- ප්‍රශ්නයට වඩාත් ගැලපෙන පිළිතුර තෝරා, දී ඇති වරහන තුළ අදාළ අංකය යොදන්න.

1) ලංකා ඉතිහාසය ගැන කියවෙන ප්‍රධානතම මූලාශ්‍රය වන්නේ,

- | | |
|------------------|-----------------------|
| 1. ට්‍රිපවංශයයි. | 3. දීපවංශයයි. |
| 2. බෝධිවංශයයි. | 4. මහාවංශයයි. (.....) |

2) ඉතිහාසය හැඳෑරීමෙන් අපට දැනගත හැකි දෙයක් නොවන්නේ,

- | | |
|--|--|
| 1. පැරණි මුතුන් මිත්තන්ගේ ඇඳහිලි හි විශ්වාස පිළිබඳවය. | |
| 2. පැරණි මුතුන් මිත්තන්ගේ ආහාර පිළිබඳවය. | |
| 3. පැරණි මුතුන් මිත්තන් න්‍යෂ්ටික අවි අයුධ නිපදවීම පිළිබඳවය. | |
| 4. පැරණි මුතුන් මිත්තන්ගේ සිරිත් විරිත් පිළිබඳවය. (.....) | |

3) එඬේර යුගයේ මිනිසාගේ ප්‍රධානතම ජීවනෝපාය වූයේ,

- | | |
|------------------------------|-------------------------------|
| 1. සතුන් හිලෂකර ඇති කිරීමයි. | 3. ධාන්‍ය වගා කිරීමයි. |
| 2. සතුන් දඩයම් කිරීමයි. | 4. එළවළු වගා කිරීමයි. (.....) |

4) ප්ලාශ්‍රිත ශිෂ්ටාචාරය ගොඩ නැගුනේ,

- | | |
|-----------------|---------------------------|
| 1. මායා රටෙන්ය. | 3. උඩ රටෙන්ය. |
| 2. රජ රටෙන්ය. | 4. රුහුණු රටෙන්ය. (.....) |

5) ආර්යයන් ශ්‍රී ලංකාවේ පල හිඟයට පිළිතුරු දුන්නේ,

- | | |
|----------------------------|-------------------------------|
| 1. බෝධි පූජා පැවැත්වීමෙනි. | 3. හේන් වගාවෙනි. |
| 2. දෙවියන් යැදීමෙනි. | 4. වැව් ඉදි කිරීමෙනි. (.....) |

6) උරුවෙල ග්‍රාමය පිහිටුවන ලද්දේ,

- | | |
|-------------------|------------------------|
| 1. කැළණි ගඟ අසලය | 3. මහවැලි ගඟ අසලය |
| 2. මල්වතු ඔය අසලය | 4. කලා ඔය අසලය (.....) |

7) අතීතයේ දී 'කඳුමිහ හඳි' නමින් හැඳින්වූයේ,

- 1. කැළණි ගඟය.
- 2. මල්වතු ඔයය.

- 3. කලා ඔයය.
- 4. මැණික් ගඟය. (.....)

8) ශ්‍රී ලංකාවේ දැනට හඳුනාගෙන ඇති මුල්ම වැව වන්නේ,

- 1. අභය වැවය.
- 2. ජය වැවය.

- 3. ගාමිණී වැවය.
- 4. තිසා වැවය. (.....)

9) අනුරාධපුර යුගයේ කෘෂිකාර්මික කටයුතුවලදී, වඩා වැදගත් වූ සත්වයා වන්නේ,

- 1. කුකුළාය.
- 2. ගවයාය.

- 3. අශ්වයාය.
- 4. එළුවාය. (.....)

10) පණ්ඩුකාභය රාජ්‍ය සමයේ පැවති ආගමක් නොවන්නේ,

- 1. ජෛන ආගමය.
- 2. බ්‍රාහ්මන ආගමය.

- 3. ක්‍රිස්තියානි ආගමය.
- 4. දේව වන්දනාවය. (.....)

11) ශ්‍රී ලංකාවේ ප්‍රථම බෞද්ධ රජු වන්නේ,

- 1. දේවානම්පියතිස්ස රජුය.
- 2. පණ්ඩුකාභය රජුය.

- 3. විජය රජුය.
- 4. මුට්සිව රජුය. (.....)

12) එළාර රජු අනුරාධපුරයේ රජකල කාල සීමාව වන්නේ,

- 1. වසර 14 යි.
- 2. වසර 44 යි.

- 3. වසර 34 යි.
- 4. වසර 04 යි. (.....)

13) රෝහණ රාජ්‍යයේ අගනුවර ලෙස හැඳින්වූයේ,

- 1. කතරගමය.
- 2. වන්දනගාමය.

- 3. බුත්තලය.
- 4. මාගමය. (.....)

14) දුටුගැමුණු රජු ඉදිකල ආගමික ස්ථානයක් නොවන්නේ,

- 1. මිරිසවැටිය.
- 2. රුවන්වැලි මහා සෑය.

- 3. ට්‍රිපාරාමය.
- 4. ලෝවාමහා පාය. (.....)

15) කිරි වැඳුනු කෙත් යායක් ගවයන් සඳහා පරිත්‍යාග කල රජු වන්නේ,

- 1. I මිහිඳු රජුය.
- 2. II මිහිඳු රජුය.

- 3. III මිහිඳු රජුය.
- 4. V මිහිඳු රජුය. (.....)

16) වැව් නිර්මාණය කිරීමට මූලික වූ ගම් ප්‍රධානීන් හැඳින්වූ නමක් නොවන්නේ,

- 1. ගමික.
- 2. උතර.

- 3. අඩිතර.
- 4. ප්‍රාථමික. (.....)

17) 'අසඳුස මහා ට්‍රිපය' ලෙස හැඳින්වෙන චෛත්‍ය වන්නේ,

- 1. රුවන්වැලි මහා සෑය.
- 2. ට්‍රිපාරාමය.

- 3. අභයගිරියයි.
- 4. ජේතවනාරාමයයි. (.....)

• පහත දැක්වෙන ශ්‍රී ලංකා සිවියම ඇසුරින් පිළිතුරු සපයන්න.

18) ගෝකණ්ණ වාරය දැක්වෙන අක්ෂරය වන්නේ,


- 1. H 3. Y
- 2. E 4. G (.....)

19) 'B' අක්ෂරයෙන් දැක්වෙන්නේ,

- 1. මැණික් ගඟය. 3. කලා මයය.
- 2. මල්වතු මයය. 4. කැළණි ගඟය (.....)

20) 'S' අක්ෂරයෙන් දැක්වෙන වරය එකල හැඳින්වූ නම වන්නේ,

- 1. මහතින්ටිය. 3. ගෝකණ්ණය.
- 2. ගාල්ලය. 4. කොළඹය. (.....)



(ලකුණු 2x20=40)

II කොටස

- සියළුම ප්‍රශ්නවලට පිළිතුරු සපයන්න.

(1) තුන්වන වාරයේ ඔබ විසින් නිර්මාණය කල රජවරුන්ගේ වැඩි සහ සිද්ධස්ථාන ඇතුළත් විස්තර පත්‍රිකාව ඇසුරින් පහත ප්‍රශ්නවලට පිළිතුරු සපයන්න.

1. ඔබ විසින් නිර්මාණය කල විස්තර වගුවට, ඔබ විසින් යොදා ගත් රජවරු 2 ක් ලියන්න.

1)	2)	(4)
----------	----------	-----
2. එම විස්තර වගුවට, තොරතුරු රැස්කර ගත් ආකාර 2 ක් ලියන්න.

1)		(4)
2)		
3. එම තොරතුරු රැස් කර ගැනීම තුළින් ඔබට ලැබුණු වාසි 2 ක් ලියන්න.

1)		(4)
2)		
4. තොරතුරු වගුව සකස් කිරීමේදී ඔබ භාවිතා කල ද්‍රව්‍ය 2 ක් ලියන්න.

1)		(4)
2)		

(2) හදිසකවිවානා කුමරිය සමඟ පැමිණි ඇගේ සොහොයුරන්, ශ්‍රී ලංකාවේ විවිධ ප්‍රදේශවල ගම් පිහිටුවා ගත්හ.

1. එසේ පැමිණි සහෝදරයන් 2 ක් හා ඔවුන් පිහිට වූ ගම් 2 ක් ලියන්න.

- | <u>සහෝදරයන්</u> | <u>පිහිට වූ ගම්</u> | |
|-----------------|---------------------|-----|
| 1) | 1) | |
| 2) | 2) | (4) |

2. දඩයම් යුගයේ මිනිසා මුහුණ දුන් අභියෝග 2 ක් ලියන්න.

- | | | |
|----------|--|-----|
| 1) | | (2) |
| 2) | | |

3. දඩයම් යුගයේ මිනිසාගේ ප්‍රධානතම සොයා ගැනීම කුමක්ද ?

- | | | |
|----------|--|-----|
| 1) | | (1) |
|----------|--|-----|

4. ඉහත දැක්වූ සොයා ගැනීම්, වර්තමාන මිනිසා කටයුතුවලදී යොදාගන්නා ආකාර 2 ක් ලියන්න.

- | | | |
|----------|--|-----|
| 1) | | (4) |
| 2) | | |

(3)

1. “සමනාමයං මහාරාජ - ධම්මරාජස්ස සාවකා
නමේව අනුකම්පාය - ජම්බුදීපා ඉධාගතා”

මෙම වදන් ‘කවරකු’ විසින් ‘කවරකුට’ පවසන ලද්දක් ද ?

- (1)
2. බුදු දහම හිසා අප රටට ලැබුණු දායාද 2 ක් ලියන්න.
 - 1)
 - 2) (2)
 3. ඉන්දියාවට එකල භාවිතා කල නම් 2 ක් ලියන්න.
 - 1)
 - 2) (4)
 4. පණ්ඩුකාභය කුමරුට උදව් කල මාමාවරු 2ක් නම් කරන්න.
 - 1)
 - 2) (4)

(4)



1. පහත සඳහන් වැව් නිර්මාණය කල රජවරු නම් කරන්න.

<u>වැව</u>	<u>සෑදූ රජ</u>
I. නොවිච්චොනාන	1.
II. මින්නේරිය	2.
III. කලා	3.
IV. කන්නලේ	4. (4)

2. වැවක අංග 3 ක් නම් කරන්න.
 - 1)
 - 2)
 - 3) (3)
3. මධ්‍යම පරිමාණ වැව් ඉදි කිරීමට හේතු වූ කරුණු 2 ක් ලියන්න.
 - 1)
 - 2) (2)
4. කුඩා වැව් ඉදි කල රජවරු 3 ක් නම් කරන්න.
 - 1)
 - 2) (2)

(5)

1. ඔබ ගිය අනුරාධපුර වාරිකාවේදී පහත දැක්වෙන ස්ථාන දැක බලා ගැනීමට අවස්ථාව ලැබුණි. එම දැනුම ඇසුරෙන් පහත දැක්වෙන රූප නම් කරන්න.



(5)

2. ඔබ වාරිකාවේදී දැටුව නිර්මාණ ඇසුරින් පහත සඳහන් රූපවරු විසින් ඉදි කල නිර්මාණ 1 ක බැගින් ලියන්න.

1) වළගම්බා රජු -

2) මහසෙන් රජු -

3) දැටුගැමුණු රජු -

4) දේවානම්පියතිස්ස රජු - (4)

3. අනුරාධපුර යුගයේ කෘෂි කර්මාන්තය කොටස් 3 කට බෙදා වෙන් කල හැක. එයින් කොටස් 2 ක් නම් කරන්න.

1)

2) (2)