

මාරිස් ස්ටේෂන විදුහල - මීගමුව



අවසාන වාර පරීක්ෂණය 2009

1 ශ්‍රේණිය


ගණිතය

නම - පංතිය - 1 අංකය -



1) මෙයට වඩා දිග පැහැසලක් අඳින්න.



2) මෙයට වඩා මිටි ගසක් අඳින්න.



3) මෙයින් බර වැඩි පලතුර පාට කරන්න.



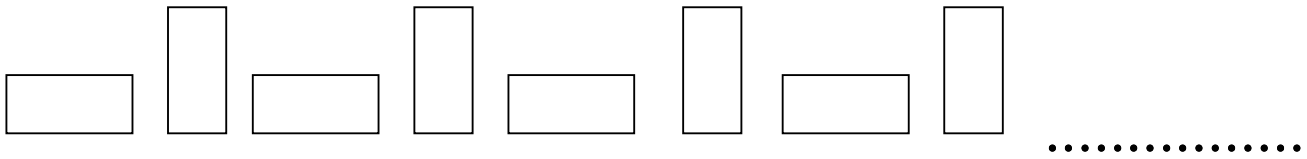
4) මෙම සතුන්ට ඉදිරියෙන් යන භාවේක් අඳින්න.




5) එකම හැඩයේ කොළ පාට කරන්න.



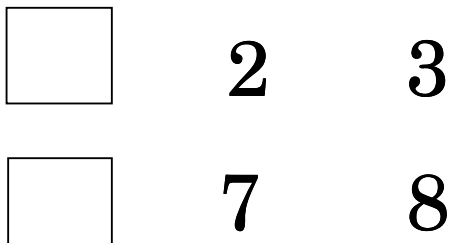
6) රටාවේ ඊ ළඟ රූපය අඳින්න.



7) හිස් විදුරුවට වැඩියෙන් වතුර දමා පාට කරන්න.



8) හිස් කොටුව පුරවන්න.



9) ඉලක්කමට අදාළ අකුර පාට කරන්න.

7

හ	ච	න	න	බ
---	---	---	---	---

9

න	ක	න	ච	ය
---	---	---	---	---

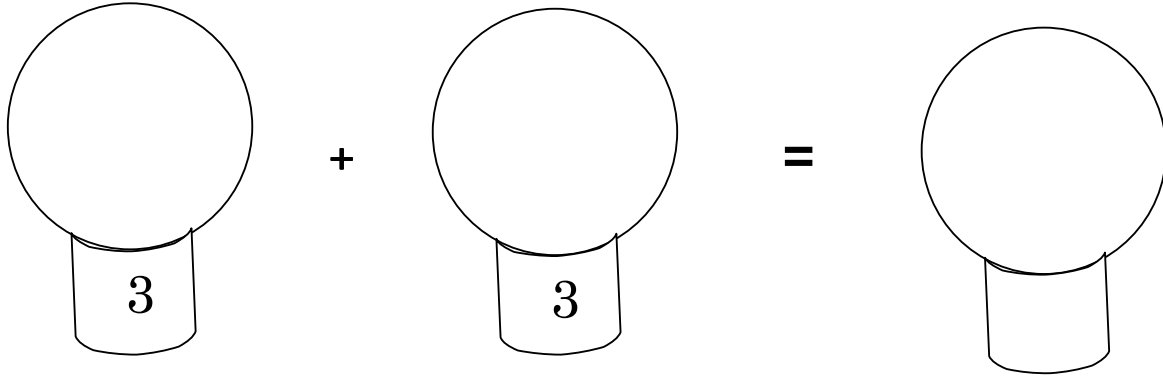
4

ප	හ	ක	න	ර
---	---	---	---	---

10) මල් 9 ක් පාට කරන්න.

(3 s 10=30)

1) රූප ඇඳ එකතු කරන්න.




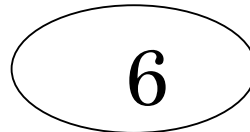

2) එකතුව සොයා යා කරන්න.

$$3 + 2$$

$$2 + 4$$

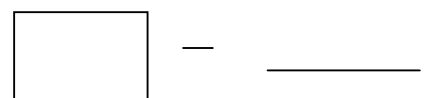
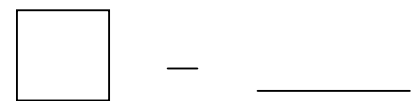
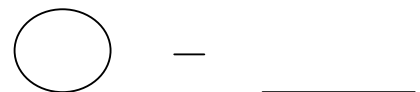
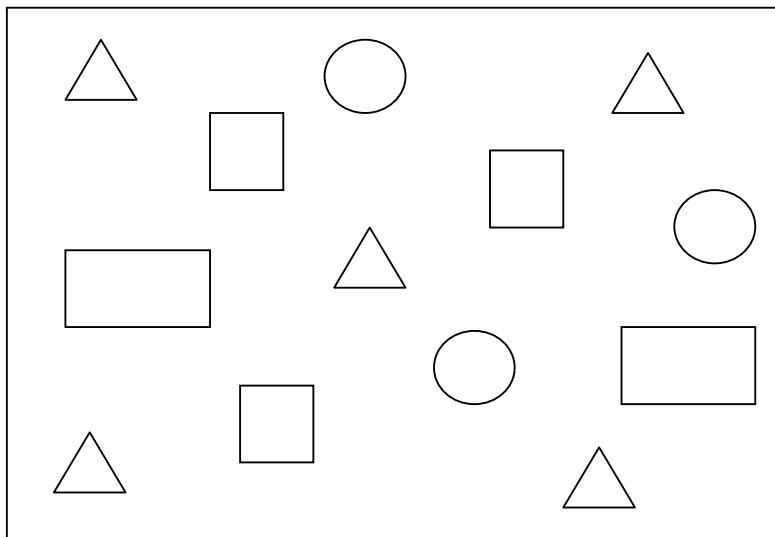
$$5 + 1$$

$$2 + 2$$



(ලකුණු 10)

3) ගණන් කර ලියන්න.




(ලකුණු 10)


4) මිල ගණන් බලා පිළිතුරු ලියන්න.



රුපියල් 5 යි.



රුපියල් 1 යි.



රුපියල් 2 යි.

1. රුපියල 5 ට ගත හැක්කේ මොනවාද ?

2. ජම්බු ගෙඩියක මිල කීයද ?

3. රූපියලකට ගත හැකි පළතුර කුමක්ද ?

(ලකුණු 12)

5) ගණන් කර අකුරෙන් ලියන්න.

(ලකුණු 05)

6) එකතු කරන්න.

$$\begin{array}{r} 3 \\ + 1 \\ \hline \\ \hline \end{array} \quad \begin{array}{r} 5 \\ + 2 \\ \hline \\ \hline \end{array} \quad \begin{array}{r} 4 \\ + 1 \\ \hline \\ \hline \end{array} \quad \begin{array}{r} 2 \\ + 2 \\ \hline \\ \hline \end{array}$$

(ලකුණු 08)

7)

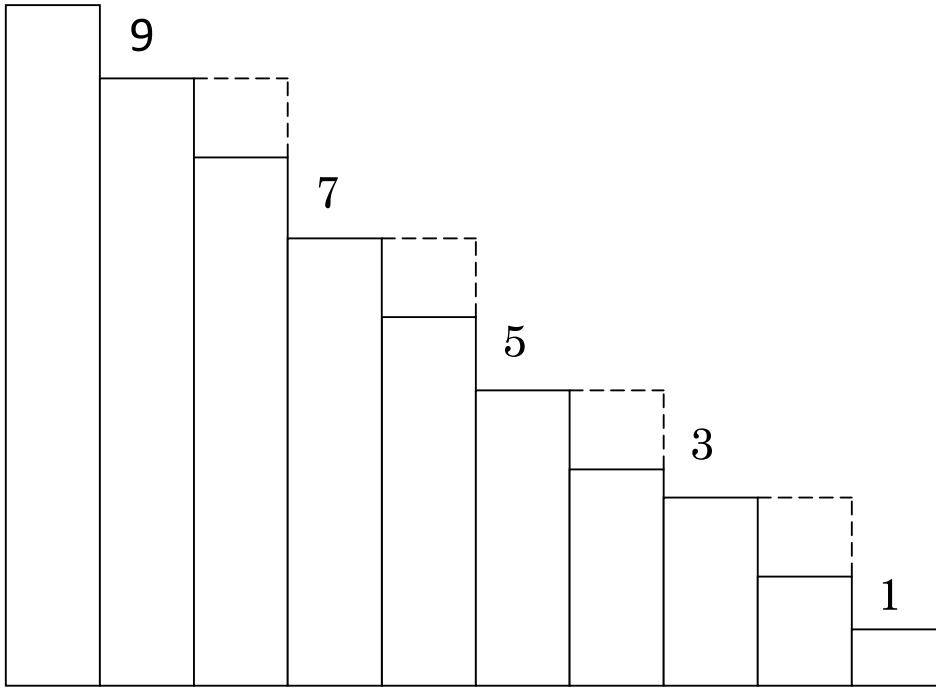
1. මිටිම ළමයා කවුද ?

2. මෑද සිටින ළමයා කවුද ?

3. කමල් වටේ රවුමක් ඇදීන්.

(ලකුණු=10)

8) හිස් තැන් පුරවන්න.



(ලකුණු=10)