

මාර්ස් ස්ටේල්ලා විදුහල - මීගමුව

අවසාන වාර ඇගයීම -2009

2 ශ්‍රේණිය

ගණිතය

නම - පංතිය - අංකය -

1 පටිපාටි ගත කිරීම

අඩු එකේ සිට වැඩි සංඛ්‍යාවට ලියන්න.

I. 33,23,43 *

II. 75,98,82 *

වැඩි එකේ සිට අඩු සංඛ්‍යාවට ලියන්න.

I. 44,65,72 *

II. 53,96,62 *

(ලකුණු 10)

2. නිමල් උදෙන්ම අවදි වුණා.ඔහු මුහුණ සෝදා පාසල් ගියා.දවල් පාසල ඇරි ගෙදර ආවා.සවස ගෙදර වැඩ කළා.රාත්‍රියේ නින්දට ගියා.

	කළ දේ
උදේ	
දවල්	
සවස	

රාත්‍රිය	
----------	--

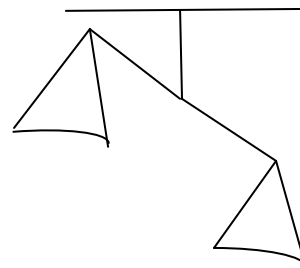
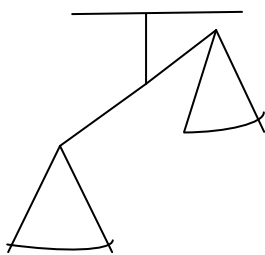
(ලකුණු 10)

3.

සංඛ්‍යාව	සංඛ්‍යා නාම
44
.....	පනස් දෙක
71
.....	හැට නවය

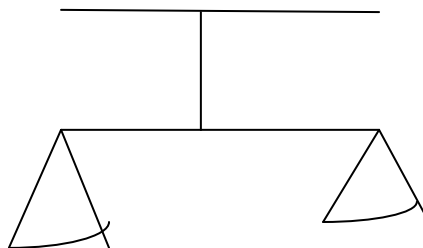
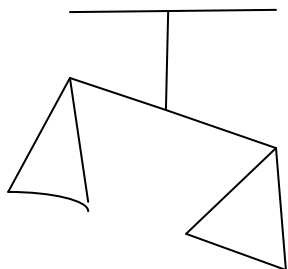
(ලකුණු 8)

4. බර වැඩි පැත්ත යටින් ඉරක් අඳින්න.



(ලකුණු 4)

5. හිස් තැන් පුරවන්න.



අඹ ගෙඩියේ බර ජම්බු ගෙඩියේ බරට.....

(සමානයි/වඩා වැඩියි/වඩා අඩුයි)

කැරට් අලයේ බරට අල ගෙඩියේ බර.....

(සමාන වේ/අඩු වේ/වැඩියි)

(ලකුණු 4)

6.

	දහයේ ඒවා	එකේ ඒවා	සංඛ්‍යාව

(ලකුණු 8)

7. සංඛ්‍යා බන්ධ

(ලකුණු 8)

8. මිල සොයමු.

- I. අඹ ගෙඩියක හා ගස්ලඩු ගෙඩියක මිල කීයද?.....
- II. රු.5 කට ගත හැක්කේ කුමක්ද?.....
- III. ඇපල් ගෙඩි 2 ක මිල කීයද?.....
- IV. රු.10 කින් අඹ ගෙඩියක් ගත් විට ඉතිරිය කීයද?.....

(ලකුණු 12)

9. දී ඇති සංඛ්‍යාවල ඊළඟට එන සංඛ්‍යාව ලියන්න.

- I. 5,10, , 20
- II. 12,14,16,
- III. 3,5,7,

(ලකුණු 6)

10. ලකුණ බලා සාදන්න.

$$\begin{array}{r} 1. \quad 88 \\ + 10 \\ \hline \\ \hline \end{array}$$

$$\begin{array}{r} 6. \quad 23 \\ - 33 \\ \hline \\ \hline \end{array}$$

$$\begin{array}{r} 2. \quad 54 \\ - 13 \\ \hline \\ \hline \end{array}$$

$$\begin{array}{r} 7. \quad 78 \\ - 24 \\ \hline \\ \hline \end{array}$$

$$\begin{array}{r} 3. \quad 74 \\ + 14 \\ \hline \\ \hline \end{array}$$

$$\begin{array}{r} 8. \quad 11 \\ + 27 \\ \hline \\ \hline \end{array}$$

$$\begin{array}{r} 4. \quad 42 \\ - 13 \\ \hline \\ \hline \end{array}$$

$$\begin{array}{r} 9. \quad 32 \\ - 20 \\ \hline \\ \hline \end{array}$$

$$\begin{array}{r} 5. \quad 65 \\ + 14 \\ \hline \\ \hline \end{array}$$

$$\begin{array}{r} 10. \quad 47 \\ - 17 \\ \hline \\ \hline \end{array}$$