

6 ශ්‍රේණිය

පීචන නිපුණතා හා පුරවැසි අධ්‍යාපනය

කාලය පැය 2 යි

නම :.....

ශ්‍රේණිය :.....

අංකය :.....

I පත්‍රය

(1) පහත සඳහන් ප්‍රකාශන නිවරදි නම් (✓) ලකුණ ද, වැරදි නම් (x) ලකුණ ද යොදන්න.

- 1. අප මහස ඊර්ෂියාවෙන් නිදහස් කර ගැනීමට අන් අය සමඟ ඡායදිය යුතුයි. ()
- 2. අප කුඩා කළ සිට යහපත් සැලැස්මකට වැඩ කළොත් අපට අනාගත ඉලක්කයට ලගා විය හැකිය. ()
- 3. අපට එක මුඛයක් සහ සවන් දෙකක් ඇත්තේ අඩුවෙන් කතා කොට වැඩියෙන් ඇහුන්කම් දීමටයි. ()
- 4. වැඩිහිටියන්ගේ කථාවට රහස් ඇහුන්කම් දීම හොඳ සාරධර්මයකි. ()
- 5. ඔබ සානුකම්පිතව ක්‍රියාකිරීමේදී මානසික බෙල හිනතාවලින් පෙලෙන මිනිසුන්ගේ අවශ්‍යතා හඳුනා ගැනීම වැදගත් නොවේ. ()

(2) වරහන් තුල දී ඇති නිවැරදි පිළිතුර යටින් ඉරක් අඳින්න.

- 6. යහපත් පෞරුෂත්වයකින් යුත් පුරවැසියෙක් ක්‍රමානුකූලව ගොඩ නගන ආයතනය වන්නේ(පාසල/පන්සල).
- 7. සහයෝගීතාවය සාර්ථක (පෞද්ගලික/සමාජ) ජීවිතයක් සඳහා වැදගත් වේ.
- 8. අපි අසල් වැසියන් සමඟ (යහපත්/අයහපත්) සම්බන්ධතාවයක් පවත්වා ගැනීමෙන් ගැටළු අවම කරගත හැකිය.
- 9. සානුකම්පිතව කටයුතු කිරීම සඳහා (සංවේදීතාවය/අසංවේදීතාවය) තබා ගත යුතු ගුණාංගයකි.
- 10. පරිසරය (ආකෘතිරීම/විනාශකිරීම) මිනිසා විසින්ම අයහපත් ප්‍රතිඵල ලගා කර ගැනීමකි.

(3) A හා B තීරු නිවරදිව ගලපන්න.

A

11. පොත් කියවීම
12. මුද්දර එකතු කිරීම
13. විකිණීම සඳහා අලංකාර පැළෑටි වගා කිරීම
14. සංගීත භාණ්ඩ වාදනය කිරීම
15. පිහිනීම
16. මල් වැවීම

B

1. ආර්ථික ලාභයකි
2. මානසික ශිෂ්ටභාවය හා විනෝදය
3. ස්වභාවය අලංකාර වීම
4. දැනුම සහ විනෝදය
5. නිරෝගිමත් බව
6. දැනුම සහ ලිවීමට ඇතුල් වීම

**(4) වරහන් තුළ ඇති වචන භාවිතා කරමින් ආගමික සංකේතය නම් කරන්න.
(හින්දු / කතෝලික / බෞද්ධ / මුස්ලිම්)**

- 17.
- 18.
- 19.
- 20.
- 21.

II පත්‍රය

(1) ප්‍රශ්න සියල්ලටම පිළිතුරු මෙම පත්‍රයේම සපයන්න.

I. පවුල් වර්ග දෙක නම් කරන්න.

1.

2.

II. අපගේ ජීවිත යහපත් කරගැනීමට උදව් කරන බොහෝ දෙනෙක් සිටියි එසේ අපට උදව් කරන පුද්ගලයින් 3 දෙනෙක් නම් කරන්න.

1.

2.

3.

III. පහත දැක්වෙන රාමුව තුළට ඔබ තුළ ඇති ප්‍රබලතා 3 ක් සහ දුබලතා 3 ක් ලියන්න.

ප්‍රබලතා	දුබලතා

IV. ඔබ තුළ වර්ධනය කරගත හැකි සාරධර්ම 3 ක් ලියන්න.

1.

2.

3.

2) (I) ඔබගේ පාසැලේ අන්‍යතාවය නියෝජනය කිරීමට භාවිතා කරන දේවල් 3 ක් සඳහන් කරන්න.

1.

2.

3.

II. ඔබ පාසලෙන් ලබාගන්නා දේවල් 3 ක් ලියන්න.

1.
2.
3.

III. ඔබේ පාසලේ ඉතිහාසය දැනගැනීමට භාවිතා කළ හා කි මූලාශ්‍ර 3ක් නම් කරන්න.

1.
2.
3.

IV. ඔබේ පාසල පිළිබඳ පහත දැක්වෙන රාමුව සම්පූර්ණ කරන්න.

ආරම්භක වර්ෂය	
ඵලමු ශිෂ්‍ය සංඛ්‍යාව	
පලමු ගුරුඛවතුන් සංඛ්‍යාව	

3) (I) ඔබේ සානුකම්පිත බව අන් අයට පෙන්වන අවස්ථා 3 ක් ලියන්න.

1.
2.
3.

II. විශේෂ අවශ්‍යතා ඇති පුද්ගලයින් 3 ක් නම් කරන්න.

1.
2.
3.

III. ඔබ ජීවිතයේ අමතක නොවන සිද්ධීන් 3 ක් සඳහන් කරන්න.

1.
2.
3.

IV. එරිසරයේ සිදුවන ස්වභාවික ආපදා 3 ක් නම් කරන්න

- 1.
- 2.
- 3.


4. (I) ශ්‍රී ලංකාවේ ජාතික උරුමයන් ලෙස සහ ලෝක උරුමයන් ලෙස නම් කර ඇති ස්ථාන 3 ලියන්න

- 1.
- 2.
- 3.


II. පහත දැක්වෙන පිංතූරවලට අදාළ නිවැරදි පිළිතුර වරහන් තුලින් තෝරා ලියන්න

(ක්‍රිස්තියානි දේවස්ථානය/බෞද්ධ පන්සල/නින්දු කෝවිල/මුස්ලිම් දේවස්ථානය)


(A)




(B)



(C)



(D)



III. අන්තර් පුද්ගල සම්බන්ධතාවයේ දක්නට ලැබෙන ලක්ෂණ 3 ක් නම් කරන්න

- 1.
- 2.
- 3.

IV. ප්‍රබල සංඛ්‍යාදායක අවශ්‍යය ගණාංග 2 ක් ලියන්න

- 1.
- 2.

5. (I)ඔබගේ ප්‍රදේශයේ ආගමික ආයතන මගින් සිදු කරන සේවාවන් 3 ක් ලියන්න

- 1.
- 2.
- 3.

II. මානව සම්පත් 3 ක් සඳහන් කරන්න

- 1.
- 2.
- 3.

III. ඔබගේ ප්‍රදේශයේ ජනතාවගේ සාමූහිකත්වයට උදාහරණ 3 ක් ලියන්න

- 1.
- 2.
- 3.

IV. ඔබගේ ප්‍රදේශයේ නැපැල් කාර්යාලය ජනතාවට සපයන සේවාවන් 3 ක් ලියන්න

- 1.
- 2.
- 3.

